


제 4 교시

탐구 영역 (통합사회)

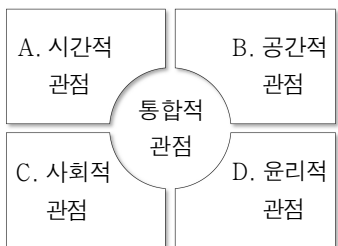
성명

수험 번호

1. 그림에 나타난 문제를 해결하기 위해 A~D의 관점에서 제기할 수 있는 질문으로 적절한 것만을 <보기>에서 고른 것은?



<페마스크 끈에 부리가 묶인 지빠귀>

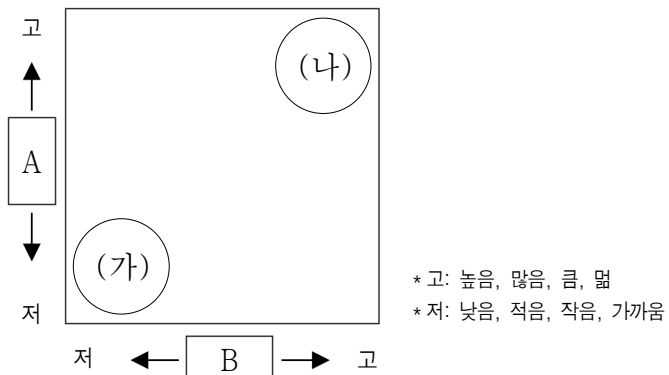


- <보 기>
- ㄱ. A - 페마스크를 수거하는 바람직한 방법은 무엇인가요?
  - ㄴ. B - 페마스크로 동물의 피해가 집중된 지역은 어디인가요?
  - ㄷ. C - 페마스크의 무단 투기를 막을 제도는 무엇인가요?
  - ㄹ. D - 페마스크로 인한 동물의 피해는 언제부터 증가했나요?

- ① ㄱ, ㄴ    ② ㄱ, ㄷ    ③ ㄴ, ㄷ    ④ ㄴ, ㄹ    ⑤ ㄷ, ㄹ

2. 다음은 두 기후 지역의 전통 가옥을 나타낸 것이다. (가), (나) 기후 지역의 상대적 특성을 그래프로 나타낼 때, A, B에 들어갈 항목으로 옳은 것은? [3점]

(가)	(나)
순록의 유목을 위한 이동식 가옥	습기와 해충을 피하기 위한 고상 가옥



- |            |          |
|------------|----------|
| A          | B        |
| ① 식생 밀도    | 기온의 연교차  |
| ② 연 강수량    | 기온의 연교차  |
| ③ 연평균 기온   | 연 강수량    |
| ④ 연평균 기온   | 적도와와의 거리 |
| ⑤ 적도와와의 거리 | 식생 밀도    |

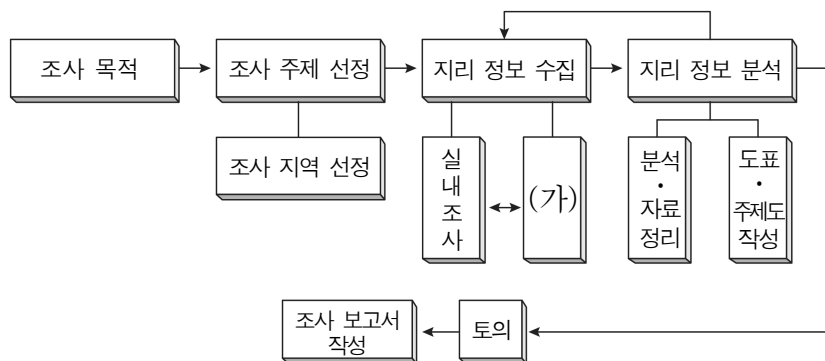
3. 다음의 대화에서 (가)에 들어갈 내용으로 가장 적절한 것은?

삶의 궁극적 목적인 행복은 지적 활동을 통해 얻는 것이라고 하셨습니다. 행복해지기 위해서는 구체적으로 어떻게 해야 하나요?

인간이 행복해지기 위해서는 동·식물에 없는, 인간만이 지닌 탁월성을 발휘해야 합니다. 구체적인 방법은 (가)

- ① 감각적 쾌락을 추구하는 삶을 살아야 합니다.
- ② 이성의 기능을 발휘하여 지혜를 얻어야 합니다.
- ③ 부와 권력을 최우선시하는 삶을 살아야 합니다.
- ④ 인간의 본능에 충실하여 욕구를 만족시켜야 합니다.
- ⑤ 공동체와 관계없이 사적인 이익을 추구해야 합니다.

4. 지역 조사 과정 중 (가) 단계에 해당하는 활동으로 가장 적절한 것은? [3점]



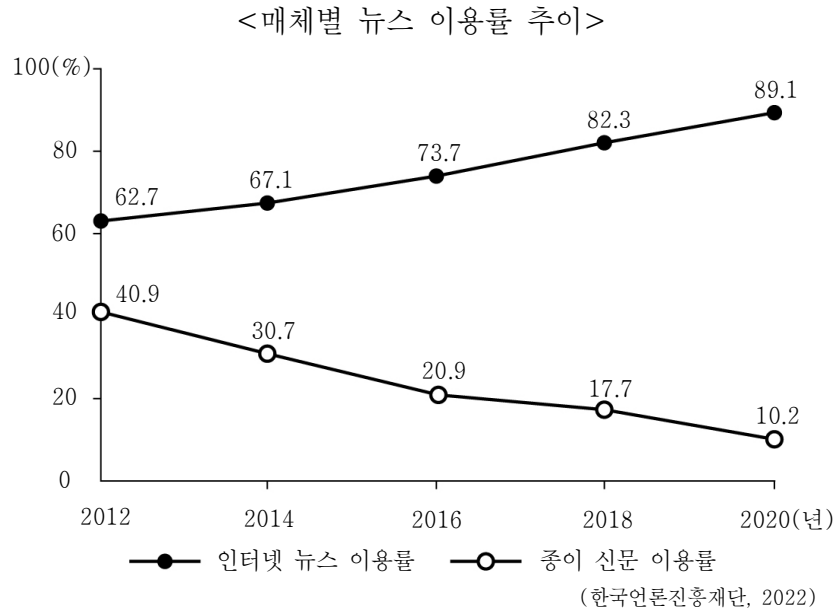
- ① ○○ 지역의 교통량과 상권 변화를 주제로 정한다.
- ② 수집한 자료를 유형별로 분류하고 시각적으로 표현한다.
- ③ ○○ 지역의 시청을 방문하여 담당자와 면담을 실시한다.
- ④ 도서관에서 교통량과 상권 변화에 관한 문헌을 조사한다.
- ⑤ 교통량과 상권 변화에 대한 ○○ 지역 답사 일정을 수립한다.

5. 행복의 기준에 대한 강연자의 입장으로 가장 적절한 것은?

21세기에도 먹을 것이 부족한 지역에서는 음식을 얻으면 행복을 느낄 것이고, 민주주의가 실현되지 않은 국가에서는 정치적 자유를 누릴 때 행복을 느낄 것입니다. 또한 전쟁이 발생한 지역에서는 평화가 행복의 기준이 될 수 있습니다.

- ① 행복의 기준은 자신이 처해 있는 환경과 무관하다.
- ② 모든 사람에게 행복의 기준은 획일적으로 적용된다.
- ③ 지역 여건에 따라 행복의 기준은 다양하게 나타난다.
- ④ 시대적 상황과 무관하게 행복의 객관적 기준은 동일하다.
- ⑤ 진정한 행복은 현세(現世)가 아닌 내세(來世)에서 실현된다.

6. 자료를 통해 추론할 수 있는 사회의 일반적인 변화 내용으로 가장 적절한 것은?



- ① 쌍방향 통신매체의 영향력이 증가할 것이다.
- ② 개인 정보 유출에 의한 사생활 침해 빈도가 감소할 것이다.
- ③ 재택근무의 축소로 가정과 직장의 분리가 뚜렷해질 것이다.
- ④ 익명성을 악용한 사이버 범죄의 발생 가능성이 낮아질 것이다.
- ⑤ 시·공간의 제약으로 전자 상거래 관련 업종이 쇠퇴할 것이다.

7. 다음은 인권 확장의 역사적 전개 과정에서 발표된 문서의 일부이다. 이에 대한 옳은 설명만을 <보기>에서 고른 것은? [3점]

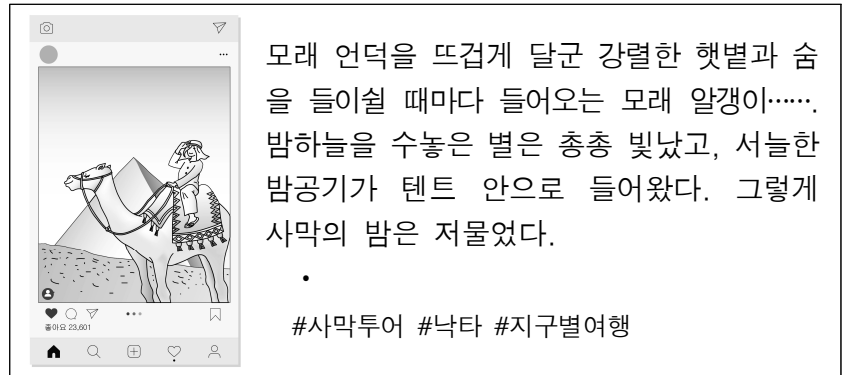
(가)	(나)
<p><b>권리 장전</b> (1689년)</p> <p>1. '국왕은 의회의 동의 없이 법의 효력을 정지하거나 법의 집행을 정지할 수 있는 권력이 있다.'는 주장은 위법이다.</p> <p>4. 국왕의 대권을 구실로 의회의 승인 없이 ... (중략) ... 국왕이 쓰기 위한 금전을 징수하는 것은 위법이다.</p>	<p><b>인간과 시민의 권리 선언</b> (1789년)</p> <p>제1조 인간은 자유롭게, 그리고 평등한 권리를 가지고 태어난다.</p> <p>제2조 모든 정치적 결사의 목적은 인간의 자연적이고 침해할 수 없는 권리를 보존하는 데 있다.</p> <p>제3조 모든 주권 원칙은 국민에게 있다.</p>

<보 기>

ㄱ. (가)는 사회권이 명시된 최초의 문서이다.  
 ㄴ. (나)는 천부 인권과 국민 주권의 원리를 반영하고 있다.  
 ㄷ. (가)와 (나)는 모두 계몽사상의 영향을 받았다.  
 ㄹ. (가)는 (나)와 달리 사회 계약설을 근거로 하고 있다.

- ① ㄱ, ㄴ    ② ㄱ, ㄷ    ③ ㄴ, ㄷ    ④ ㄴ, ㄹ    ⑤ ㄷ, ㄹ

8. 자료는 어느 지역 여행기의 일부이다. 이 기후 지역 주민들의 전통적인 생활 모습에 대한 설명으로 옳은 것은?



- ① 오아시스 주변에서 대추야자를 재배한다.
- ② 계절풍 기후를 이용하여 쌀과 차를 재배한다.
- ③ 뿔감을 구하기 어려워 날고기를 주로 섭취한다.
- ④ 풍부한 침엽수를 이용해 통나무집을 짓고 산다.
- ⑤ 이동식 화전 농업을 통해 카사바 등을 재배한다.

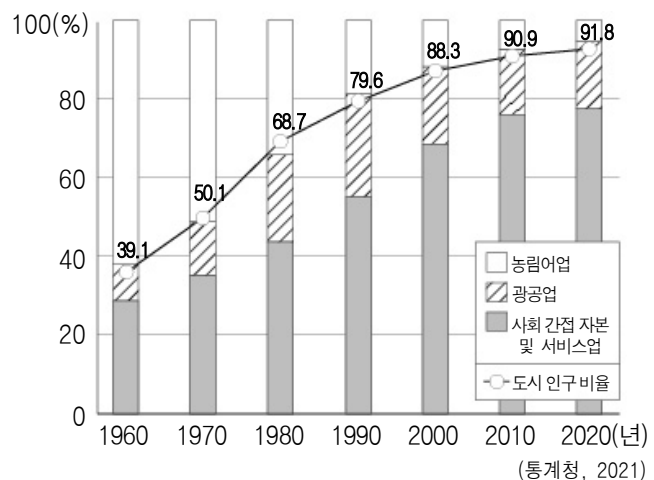
9. (가), (나)에서 공통적으로 강조하는 행복한 삶을 위한 자세로 가장 적절한 것은?

(가) 고대 그리스 철학자 소크라테스는 “반성하지 않는 삶은 살 가치가 없다.”라고 하였다. 그는 자신의 삶을 끊임없이 돌아보고 무지(無知)를 깨달아 도덕적인 삶을 사는 것이 행복이라고 주장하였다.

(나) 고등학생 ○○은 사회적으로 인정받는 직업과 자신이 원하는 직업 사이에서 고민하였다. 이후 자신이 소중히 여기는 가치를 인식하고, 자신에게 진정으로 행복감을 주는 직업을 선택하기로 하였다.

- ① 세속적 성공을 도덕적인 가치보다 우선시해야 한다.
- ② 개인의 행복보다 타인의 요구를 먼저 고려해야 한다.
- ③ 육체적인 쾌락을 정신적인 만족감보다 중시해야 한다.
- ④ 삶에 필요한 도구적 가치를 우선적으로 추구해야 한다.
- ⑤ 삶을 스스로 점검하고 성찰하는 태도를 함양해야 한다.


10. 그래프는 우리나라의 산업별 종사자 비중과 도시 인구 비율 변화를 나타낸 것이다. 1960년과 비교한 2020년의 상대적 특성으로 옳은 것은?



- ① 직업의 종류가 다양하다.
- ② 촌락 인구의 비율이 높다.
- ③ 토지 이용의 집약도가 낮다.
- ④ 1차 산업 종사자 비중이 높다.
- ⑤ 개인주의적 가치관이 약화된다.

11. (가)에 들어갈 내용으로 옳은 것은? [3점]

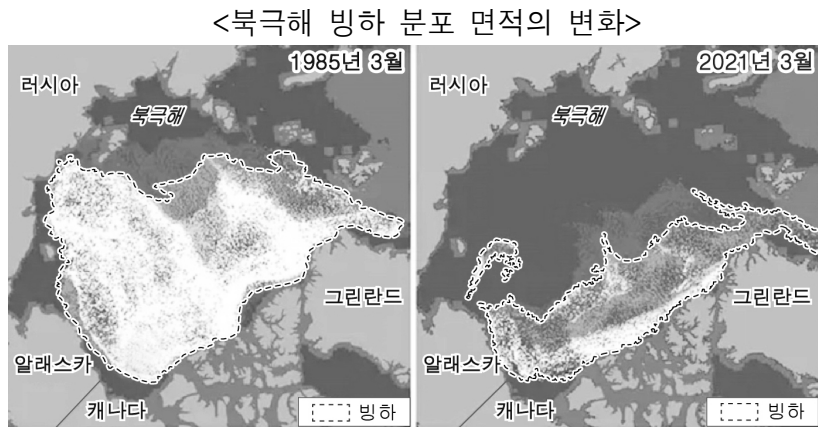
수업 주제: 카르스트 지형의 형성과 주민 생활



- 사례 지역: 중국 구이린  
베트남 할롱 베이
- 형성 과정: (가) 형성된다.
- 주민 생활: 지형을 활용한 관광업  
종사자 비율이 높다.

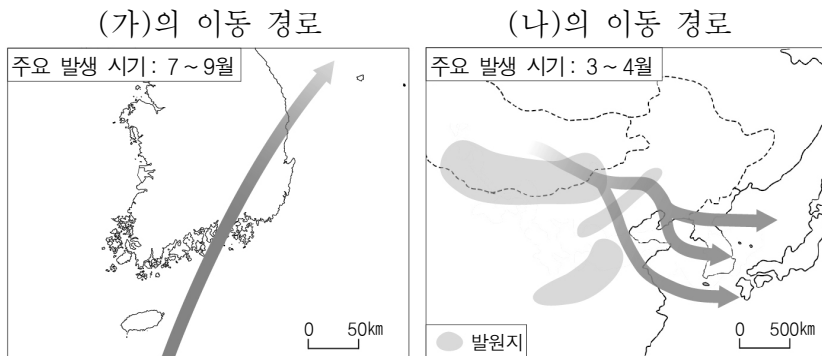
- 빙하에 의해 기반암이 깎이는 과정에서
- 용암이 급격하게 식어 수축되는 과정에서
- 파랑에 의해 운반된 모래가 쌓이는 과정에서
- 빗물과 지하수에 의해 석회암이 녹는 과정에서
- 바람이 운반한 모래가 기반암을 깎는 과정에서

12. 자료를 통해 파악할 수 있는 환경 문제가 심화될 경우 예상되는 변화로 가장 적절한 것은? [3점]



- 북극해의 해수 염도가 높아질 것이다.
- 동아시아의 겨울철 지속 기간이 길어질 것이다.
- 한반도의 침엽수림 분포 면적이 확대될 것이다.
- 남태평양 해안 저지대의 침수 위험이 증가할 것이다.
- 알프스산맥에 분포하는 만년설 범위가 확대될 것이다.

13. 자료는 (가), (나)의 이동 경로를 나타낸 것이다. 이에 대한 옳은 설명만을 <보기>에서 고른 것은? (단, (가), (나)는 각각 태풍, 황사 중 하나임.)

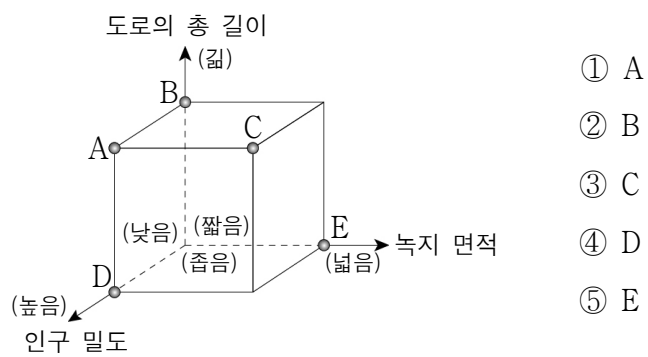
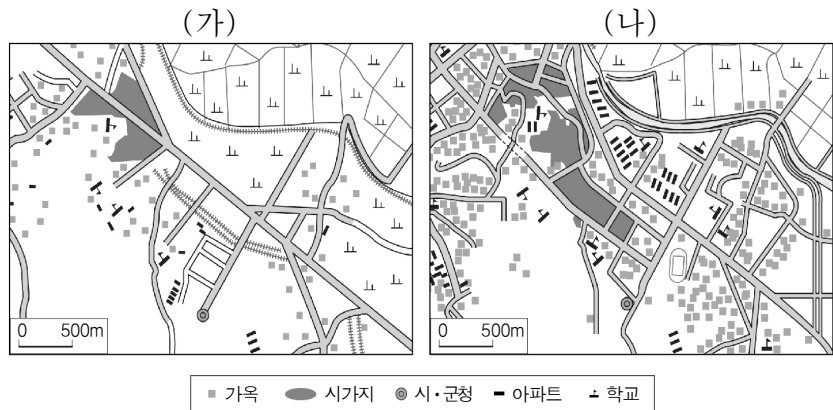


<보 기>

ㄱ. (가)는 지형적 요인에 의해 발생한다.  
 ㄴ. (가)는 주로 강풍과 폭우를 동반한다.  
 ㄷ. (나)는 열대 해상에서 발생하여 고위도로 이동한다.  
 ㄹ. (나)로 인해 호흡기 질환과 같은 신체적 피해가 발생한다.

- ㄱ, ㄴ
- ㄱ, ㄷ
- ㄴ, ㄷ
- ㄴ, ㄹ
- ㄷ, ㄹ

14. 지도는 어느 지역의 토지 이용 변화를 나타낸 것이다. (가) 시기와 비교한 (나) 시기의 상대적 특성을 그림의 A~E에서 고른 것은? [3점]



15. 표는 현대 사회의 인권 (가), (나)와 관련된 사례를 나타낸 것이다. 이에 대한 옳은 설명만을 <보기>에서 고른 것은? (단, (가), (나)는 각각 주거권, 환경권 중 하나임.) [3점]

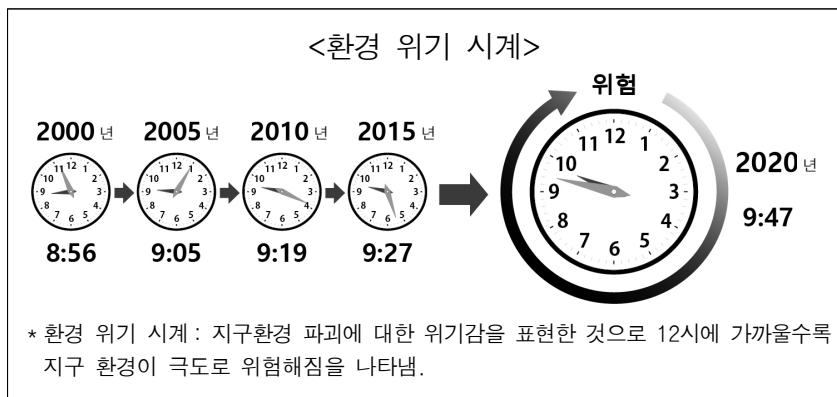
인권	사 례
(가)	프랑스 파리의 일부 청년들은 9㎡ 크기의 '하너방 (Chambre de bonne)'에 살고 있다. 이는 소설 소공녀의 세라가 하너로 전락했을 때 머문 다락방과 비슷하다고 붙여진 별명이다. 이 방은 엘리베이터나 화장실도 없고 주택이나 아파트 건물의 꼭대기 층에 있다. 여름에 옥탑방 온도는 40℃까지 올라간다. 파리도 런던과 마찬가지로 소득 대비 임대료가 비싼 도시 중 하나이다. - ○○ 신문, ○월 ○일 -
(나)	◇◇ 지역 산업단지에서 화석연료 대량 사용으로 대기 오염이 심각하게 발생하였고, 이와 관련된 사망자가 약 500명에 이른다고 △△ 환경단체연합이 밝혔다. 이 단체는 호흡기 질환 등으로 인한 사회적 손실을 금액으로 환산하면 2022년 기준 약 3조 원에 이를 것으로 추산했다. 또한 화석연료에 계속 의존할 경우, 대기오염 물질로 인한 누적 사망자가 2050년에는 2만여 명까지 증가할 것이라고 주장하였다. - □□ 신문, □월 □일 -

<보 기>

ㄱ. (가)는 (나)와 달리 천부 인권적 성격을 가진다.  
 ㄴ. (가)와 (나)는 모두 현대 사회에서 확장된 인권이다.  
 ㄷ. (가)의 사례에서 쾌적한 주거환경이 보장되고 있음을 알 수 있다.  
 ㄹ. (나)의 사례를 통해 과거에 비해 환경권이 더 강조될 것으로 예상할 수 있다.

- ㄱ, ㄴ
- ㄱ, ㄷ
- ㄴ, ㄷ
- ㄴ, ㄹ
- ㄷ, ㄹ

16. 자료와 관련된 문제를 해결하기 위한 각 주체의 노력으로 옳은 것만을 <보기>에서 고른 것은?



- <보 기>
- ㄱ. 정부는 환경 관련 국제 협약을 탈퇴한다.
  - ㄴ. 시민 단체는 친환경 제품을 인증하는 법률을 제정한다.
  - ㄷ. 소비자는 친환경 제품을 사용하여 에너지를 절약한다.
  - ㄹ. 기업은 노후 생산 시설을 정비하는 친환경 경영을 실천한다.

- ① ㄱ, ㄴ    ② ㄱ, ㄷ    ③ ㄴ, ㄷ    ④ ㄴ, ㄹ    ⑤ ㄷ, ㄹ

17. 다음 글의 관점에 부합하는 진술에만 모두 '√'를 표시한 학생은? [3점]

자연을 인간의 이익을 위한 대상으로만 평가해서는 안 되며, 생태계 내의 모든 존재는 그 자체로 존중받아야 한다. 인간과 자연은 공존하는 관계에 있으므로 생태계를 도덕적으로 대우해야 한다.

진술	학생	갑	을	병	정	무
생태계 전체는 하나의 유기체이다.		√	√		√	
인간과 자연은 동등하지 않으며 위계 관계에 있다.		√			√	√
인간은 자연과 조화를 이루며 더불어 살아가는 존재이다.			√	√		√
자연은 있는 그대로가 아닌 인간을 위한 도구적 가치만을 지닌다.				√	√	√

- ① 갑    ② 을    ③ 병    ④ 정    ⑤ 무

18. (가)에 들어갈 학생의 답변으로 가장 적절한 것은?

교사: 서울 - 춘천 고속 국도, 경춘선 복선 전철, 도시 간 특급 열차(ITX)의 개통으로 서울 - 춘천 간 교통 수단이 확충되었습니다. 두 지역에 나타날 수 있는 변화에 대해 의견을 나눠볼까요?

학생: \_\_\_\_\_ (가)

- ① 서울의 대학 병원 기능이 약화됩니다.
- ② 물류의 평균 이동 시간이 증가합니다.
- ③ 여가를 즐길 공간의 범위가 축소됩니다.
- ④ 서울에서 춘천을 찾는 관광객이 감소합니다.
- ⑤ 서울 - 춘천 간 통근·통학 비율이 증가합니다.

19. 다음은 학생의 탐구 활동 계획서이다. (가), (나)에 대한 답변으로 옳은 것은? [3점]

탐구 목표	지리적 관점으로 미술 작품을 분석할 수 있다.		
작품명	커피(Coffee)	작가	칸디도 포르티나리
탐구 작품			
탐구 활동	·작품 속 사람들은 무엇을 하고 있는가? ..... 커피콩 수확 ·작품 속 작물은 주로 어떤 기후에서 재배되는가? ..... (가) ·작품 속 농업 방식은 무엇인가? ..... (나)		

- |   |       |           |
|---|-------|-----------|
|   | (가)   | (나)       |
| ① | 열대 기후 | 이동식 화전 농업 |
| ② | 열대 기후 | 플랜테이션 농업  |
| ③ | 건조 기후 | 오아시스 농업   |
| ④ | 건조 기후 | 플랜테이션 농업  |
| ⑤ | 온대 기후 | 오아시스 농업   |

20. 다음 자료에 대한 분석으로 옳은 것은? [3점]

표는 ○○시 「학생 인권 실태 조사」에서 '학생이 동의하지 않은 개인정보가 공개되고 있는가?'라는 항목에 대한 조사 결과이다. 단, 조사 대상인 중학생의 수와 고등학생의 수는 두 시기 각각 동일하며, 무응답이나 복수 응답은 없다. (단위: %)

연도	2015년				2019년			
	전혀 그렇지 않다	그렇지 않다	그렇다	매우 그렇다	전혀 그렇지 않다	그렇지 않다	그렇다	매우 그렇다
중학생	43.6	34.8	15.7	5.9	40.0	48.7	6.7	4.6
고등학생	32.7	42.8	18.5	6.0	38.2	51.9	7.8	2.1

- ① 2019년이 2015년보다 '전혀 그렇지 않다'에 응답한 중학생의 수가 많다.
- ② 2019년이 2015년보다 '그렇지 않다'에 응답한 중학생의 비율이 낮다.
- ③ 2015년과 비교하여 2019년의 '그렇다' 응답 비율 감소 폭은 고등학생보다 중학생이 크다.
- ④ 2015년이 2019년보다 '매우 그렇다'에 응답한 고등학생의 수가 적다.
- ⑤ 2015년 대비 2019년의 '매우 그렇다' 응답 비율은 중학생이 고등학생보다 높다.

\* 확인 사항  
 ◦ 답안지의 해당란에 필요한 내용을 정확히 기입(표기)했는지 확인하시오.